

TEST č. 8 Označ všechny správné odpovědi na zadané otázky

1. „Dát přednost v jízdě“ znamená

- A) nevjíždět do křižovatky, pokud se blíží další vozidla i z velké vzdálenosti
 - B) ukázat rukou jinému řidiči, že má přednost v jízdě
 - C) povinnost řidiče nezahájit jízdu nebo jízdni úkon nebo v nich nepokračovat, jestliže by řidič, který má přednost v jízdě, musel náhle změnit směr nebo rychlost jízdy
-

2. Jízdní kolo

- A) je nemotorové vozidlo
 - B) je pouze sportovní nářadí
 - C) je přípojné vozidlo
-

3. Řidič při předjíždění

- A) nesmí ohrozit řidiče jedoucí za ním
 - B) nesmí ohrozit ani omezit řidiče vozidla, které předjel
 - C) nebere ohled na řidiče jedoucí za ním
-

4. Na přejezdu pro cyklisty se jezdí

- A) vlevo
 - B) uprostřed
 - C) vpravo
-

5. Cyklista

- A) nesmí jezdit bez držení řídítek
 - B) smí vést za jízdy psa
 - C) nesmí vést za jízdy druhé jízdni kolo
-

6. Náhlé vběhnutí zvířat na vozovku

- A) je nebezpečné zejména pro zvířata
 - B) může být nebezpečné, ale ne pro cyklistu
 - C) může být velmi nebezpečné zejména pro cyklistu
-

7. Nahradit světlomet na jízdni kole svítilnou bílé barvy s přerušovaným světlem

- A) může cyklista vždy
- B) může cyklista jen při jízdě ve vyhrazeném jízdni pruhu
- C) může cyklista jen na dostatečně souvisle osvětlené vozovce

8. Tento pokyn policisty znamená

- A) „Pozor!“ pro všechny řidiče
- B) „Volno“ pro řidiče přijíždějící k jeho pravému nebo levému boku
- C) „Stůj!“ pro řidiče přijíždějící k jeho čelu nebo zádům

**9. Svislá i vodorovná dopravní značka vyznačují vyhrazený jízdní pruh pro cyklisty**

- A) ne
- B) ano
- C) nevím

**10. Dopravní značka označuje**

- A) zákaz vjezdu osobních aut
- B) silnici pro motorová vozidla
- C) silnici, na kterou cyklisté nesmějí vjíždět

**11. Dopravní značka**

- A) zakazuje vjezd a jízdu na osobním přepravníku
- B) označuje zónu pro osobní přepravníky
- C) povoluje vedení osobního přepravníku chodcem

**12. Tato dopravní značka**


- A) dovoluje cyklistům nejvyšší rychlost jízdy
- B) zakazuje cyklistům pokračovat po této trase
- C) informuje o konci značené cyklistické trasy

**13. Která dopravní značka označuje jednosměrný provoz?**


A



B



C

**14. Rozsvícený světelný signál znamená**

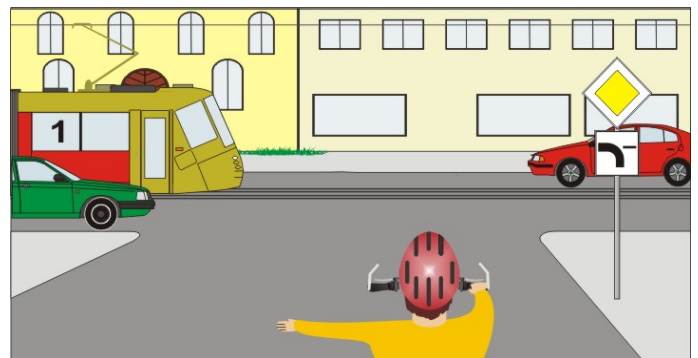
- A) připravit se k jízdě pro směr vlevo
- B) připravit se k jízdě pro jízdu přímo nebo vpravo
- C) připravit se k zastavení vozidla

15. Cyklista z výhledu:

- A) projede křižovatkou jako první
- B) projede křižovatkou jako druhý
- C) dává přednost cyklistovi přijíždějícímu zprava

**16. Cyklista:**

- A) musí dát přednost v jízdě tramvaji
- B) má přednost v jízdě, protože přijíždí po hlavní silnici z pravé strany
- C) dává přednost v jízdě červenému vozidlu

**17. Jako třetí projede křižovatkou:**

- A) cyklista
- B) autobus
- C) modré vozidlo



18. Vozidla projedou křižovatkou v pořadí:

- A) 1. zelené, 2. cyklista, 3. autobus
- B) 1. cyklista, 2. zelené, 3. autobus
- C) 1. autobus a cyklista současně, 2. zelené

**19. Cyklista:**

- A) může vjet na kruhový objezd
- B) dává přednost červenému vozidlu
- C) čeká, až zelené vozidlo opustí kruhový objezd

**20. Na této křižovatce:**

- A) cyklista projede jako první
- B) cyklista má přednost před modrým vozidlem
- C) cyklista dává přednost zelenému vozidlu

