

## TEST č. 7      Označ všechny správné odpovědi na zadané otázky

### 1. V provozu na pozemních komunikacích

- A) mohou motorová vozidla ohrozit životní prostředí
  - B) nikdo nesmí ohrožovat životní prostředí
  - C) nikdo nesmí ohrožovat život zvířat
- 

### 2. V obci na pozemní komunikaci o dvou nebo více jízdních pruzích v jednom směru jízdy

- A) smí cyklista užít kterýkoliv jízdní pruh
  - B) smí cyklista levý krajní jízdní pruh užít k jízdě, jen jestliže je to nutné k objíždění, předjíždění, otáčení nebo odbočování.
  - C) smí cyklista vždy užít jen pravý jízdní pruh
- 

### 3. Pokud cyklista vede jízdní kolo

- A) smí užít chodníku, jen neohrozí-li ostatní chodce
  - B) nesmí v žádném případě užít chodník
  - C) za snížené viditelnosti nesmí užít chodník
- 

### 4. Řidič nesmí vjíždět na železniční přejezd

- A) je-li dávana výstraha dvěma červenými střídavě přerušovanými světly
  - B) svítí-li přerušované bílé světlo
  - C) je-li dávana výstraha přerušovaným zvukem houkačky nebo zvonku přejezdového zabezpečovacího zařízení
- 

### 5. Řidič nesmí zastavit a stát

- A) na nepřehledných nebo jinak nebezpečných místech
  - B) v podjezdu a ve vzdálenosti kratší než 15 m před ním a za ním
  - C) v blízkosti železniční stanice
- 

### 6. Při jízdě kolem vchodů nebo vjezdů

- A) dbá cyklista zvýšené opatrnosti
  - B) nemusí cyklista dbát velké opatrnosti
  - C) musí cyklista zvonit
- 

### 7. Na paprscích předního nebo zadního kola nebo obou kol musí být

- A) jedna odrazka červené barvy
- B) nejméně jedna boční odrazka oranžové barvy (autožlut) na každé straně kola
- C) jedna odrazka bílé barvy na vnější straně zadního kola

**8. Tento pokyn policisty pro řidiče přijíždějící k jeho pravému boku znamená**

- A) „Pozor!“
- B) „Volno“
- C) „Stůj!“



**9. Při vyjíždění z obytné zóny má řidič přednost v jízdě**

- A) ano
- B) ne
- C) nevím



**10. Dopravní značka označuje**

- A) vedlejší pozemní komunikaci
- B) hlavní pozemní komunikaci
- C) místní pozemní komunikaci



**11. Dopravní značka znamená**

- A) přikázaný směr jízdy rovně a vpravo
- B) zákaz jízdy rovně a vpravo
- C) blížící se křižovatku



**12. Dopravní značka upozorňuje na místo**

- A) zvýšeného výskytu chodců
- B) kde je zakázán vstup chodcům
- C) kde chodci často přecházejí mimo přechod pro chodce



**13. Která dopravní značka označuje koridor pro cyklisty?**



A



B



C

**14. Rozsvícený světelný kříž**

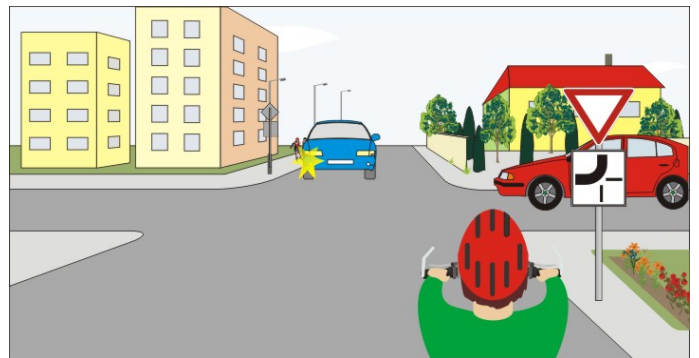
- A) označuje překážku vedle vozovky
- B) je návěstí před blížící se křižovatkou
- C) znamená zákaz vjezdu

**15. Na této křižovatce:**

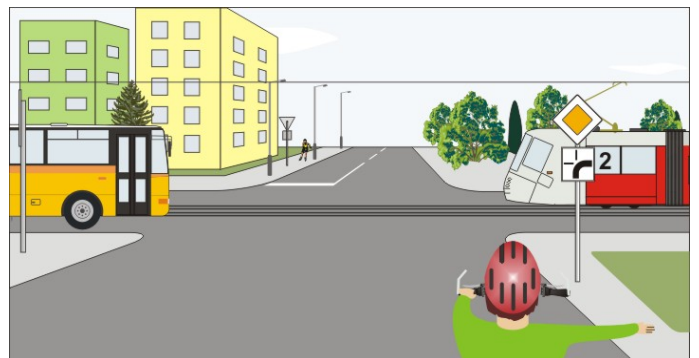
- A) jsou pokyny policisty nadřazené dopravním značkám
- B) pokyn policisty znamená „Volno“ pro cyklistu
- C) pokyn policisty znamená „Stůj!“ pro cyklistu

**16. Cyklista projede křižovatkou:**

- A) jako první současně s modrým vozidlem
- B) jako druhý
- C) jako poslední

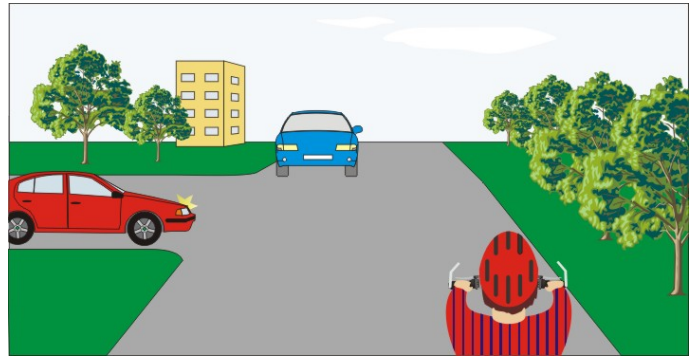
**17. Cyklista:**

- A) projede jako první současně s tramvají
- B) přijíždí po hlavní pozemní komunikaci
- C) projede jako třetí



**18. Vozidla projedou křižovatkou v pořadí:**

- A) 1. červené, 2. cyklista, 3. modré
- B) 1. cyklista současně s modrým, 2. červené
- C) 1. cyklista, 2. červené, 3. modré



**19. Cyklista:**

- A) zastaví vozidlo před dopravní značkou
- B) nemusí zastavovat vozidlo
- C) zastaví vozidlo tam, kde má do křižovatky náležitý rozhled



**20. Cyklista z výhledu:**

- A) nesmí vjíždět do křižovatky
- B) projede křižovatkou jako první současně se žlutým vozidlem
- C) projede křižovatkou současně s druhým cyklistou

