

## TEST č. 26 Označ všechny správné odpovědi na zadané otázky

### 1. Cyklista dává znamení o změně směru jízdy

- A) upažením
  - B) vždy jen směrovými světly
  - C) zvednutím ruky
- 

### 2. „Zastavit vozidlo“ znamená

- A) prudce zabrzdít
  - B) sesednout z kola
  - C) přerušit jízdu z důvodu nezávislého na vůli řidiče
- 

### 3. Řidič nesmí otáčet a couvat

- A) na přechodu pro chodce
  - B) na železničním přejezdu a v jeho těsné blízkosti
  - C) na přejezdu pro cyklisty
- 

### 4. Je-li zřízen vyhrazený jízdní pruh pro cyklisty

- A) je cyklista povinen užít ho k jízdě
  - B) může ho cyklista užít k jízdě
  - C) užívá ho cyklista jen za snížené viditelnosti
- 

### 5. Ochrannou přilbu

- A) musí za jízdy použít cyklista mladší 18 let
  - B) musí mít cyklista nasazenou na hlavě
  - C) musí mít cyklista na hlavě řádně upevněnou
- 

### 6. V blízkosti škol nebo dětských hřišť

- A) zvýší cyklista rychlost jízdy
  - B) musí cyklista sesednout z kola
  - C) dbá cyklista zvýšené opatrnosti
- 

### 7. Pro jízdu za snížené viditelnosti musí být jízdní kolo vybaveno

- A) zadní svítilnou vyzařující světlo červené barvy
- B) zadní svítilnou vyzařující světlo oranžové barvy
- C) světlometem svítícím dozadu bílým světlem

**8. Tento pokyn policisty znamená „Volno“ pro řidiče**

- A) přijíždějící k pravému boku policisty
- B) přijíždějící k čelu nebo zádům policisty
- C) přijíždějící k levému boku policisty

**9. Do takto označené ulice cyklisté smějí vjíždět**

- A) ano
- B) ne
- C) nevím

**10. Dopravní značka označuje**

- A) místo pro přecházení
- B) prostor, kde je zakázané stání
- C) sdružený přechod pro chodce a přejezd pro cyklisty

**11. Dopravní značka vyjadřuje**

- A) příkázaný směr jízdy vpravo
- B) zákaz odbočování vpravo
- C) konec zákazu odbočování

**12. Dodatková tabulka znamená**

- A) že vjezd cyklistů v protisměru je zakázán
- B) že vjezd cyklistů v protisměru je povolen
- C) že cyklisté v protisměru mají přednost v jízdě

**13. Která dopravní značka označuje obousměrný provoz?**

A



B




C

**14. Rozsvícený světelný signál nad jízdním pruhem znamená**

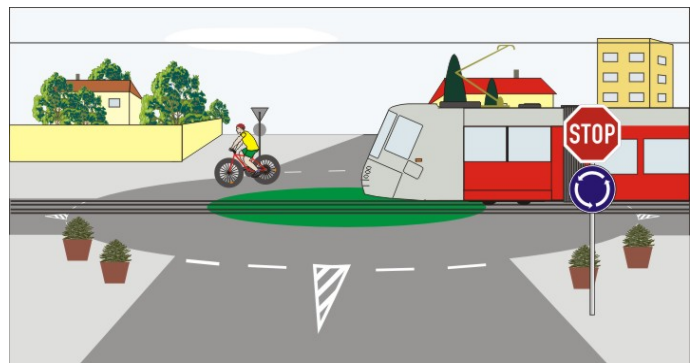
- A) že řidič smí tento jízdní pruh užít
- B) že řidič nesmí tento jízdní pruh užít
- C) že jízdní pruh bude ukončen

**15. Cyklista z výhledu:**

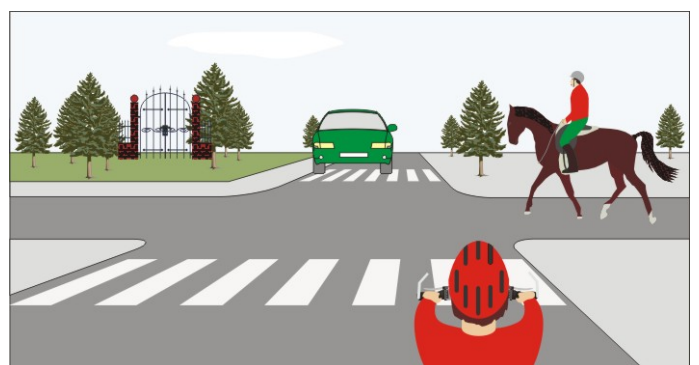
- A) má přednost před cyklistou přijíždějícím zleva
- B) dává přednost žlutému vozidlu
- C) projede křižovatkou jako druhý

**16. Na kruhovém objezdu:**

- A) má přednost v jízdě cyklista
- B) má přednost v jízdě tramvaj
- C) není přednost v jízdě upravena

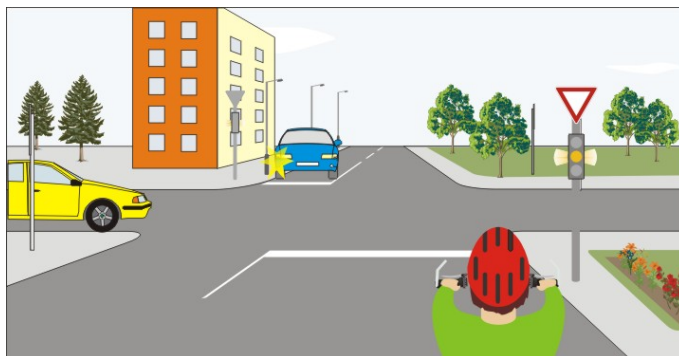
**17. Jako první projede křižovatkou:**

- A) cyklista
- B) zelené vozidlo
- C) jezdec na zvířeti

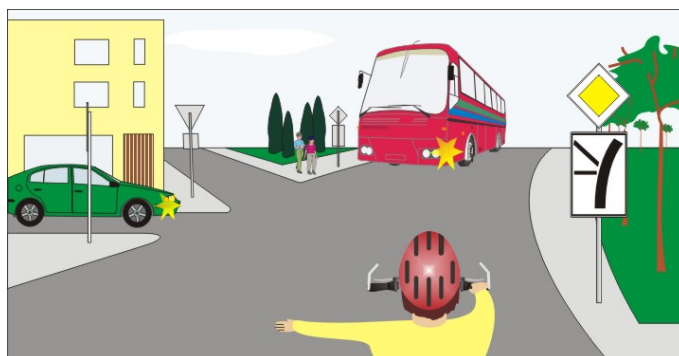


**18. Světlo signálu svítí přerušovaně:**

- A) cyklista má přednost v jízdě
- B) cyklista přijíždí po vedlejší pozemní komunikaci
- C) jako první projede křižovatkou žluté vozidlo současně s modrým vozidlem

**19. Cyklista:**

- A) dává přednost zelenému vozidlu
- B) dává přednost autobusu
- C) projede křižovatkou jako druhý současně se zeleným vozidlem

**20. Vozidla projedou v pořadí:**

- A) 1. zelené, 2. motocykl, 3. cyklista, 4. žluté nákladní
- B) 1. žluté nákladní, 2. cyklista, 3. zelené, 4. motocykl
- C) 1. cyklista, 2. žluté nákladní, 3. motocykl, 4. zelené

