

TEST č. 20 Označ všechny správné odpovědi na zadané otázky

1. „Nesmět ohrozit“ znamená

- A) jezdit a chodit pouze podle pravidel
 - B) nejezdit příliš rychle
 - C) povinnost počínat si tak, aby jinému účastníku provozu na pozemních komunikacích nevzniklo žádné nebezpečí
-

2. Po pravé krajnici smí cyklista jet

- A) kdykoliv
 - B) nejsou-li tím ohrožováni ani omezováni chodci
 - C) pouze když předjíždí vpravo
-

3. Cyklista nesmí vjíždět na železniční přejezd

- A) je-li dáována výstraha sirénou
 - B) je-li dáována výstraha přerušovaným zvukem houkačky nebo zvonku
 - C) je-li dáována výstraha dvěma červenými střídavě přerušovanými světly
-

4. Při vjíždění na kruhový objezd

- A) řidič nedává znamení o změně směru jízdy
 - B) řidič dáává znamení o změně směru jízdy
 - C) řidič v obci dáává znamení o změně směru jízdy
-

5. Cyklista nesmí jet

- A) bez rukavic
 - B) bez držení řídítek
 - C) bez slunečních brýlí
-

6. Při plánování trasy výletu

- A) zvolíme silnice s hustým provozem
 - B) zvolíme stezky pro cyklisty
 - C) zvolíme silnice s malým provozem
-

7. Pneumatiky a ráfky

- A) nesmí vykazovat trhliny
- B) nesmí vykazovat praskliny
- C) nesmí vykazovat zjevné deformace



8. Tento pokyn policisty znamená „Stůj!“ pro řidiče

- A) přijíždějící k jeho čelu
- B) přijíždějící k jeho levému boku
- C) přijíždějící k jeho zádům

9. Cyklista smí odbočit vlevo

- A) ano
- B) ne
- C) nevím



10. Tato dopravní značka

- A) vyznačuje směr objížďky
- B) označuje jednosměrný provoz
- C) označuje přikázaný směr jízdy



11. Dopravní značka vyjadřuje

- A) nejnižší dovolenou rychlost
- B) nejvyšší dovolenou rychlost
- C) doporučenou rychlost



12. Dopravní značka znamená

- A) přednost protijedoucích vozidel
- B) obousměrný provoz
- C) přednost před protijedoucími vozidly



13. Která dopravní značka označuje začátek dálnice?



A



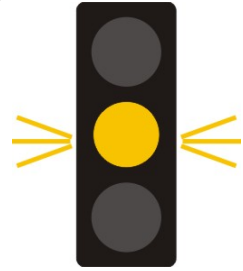
B



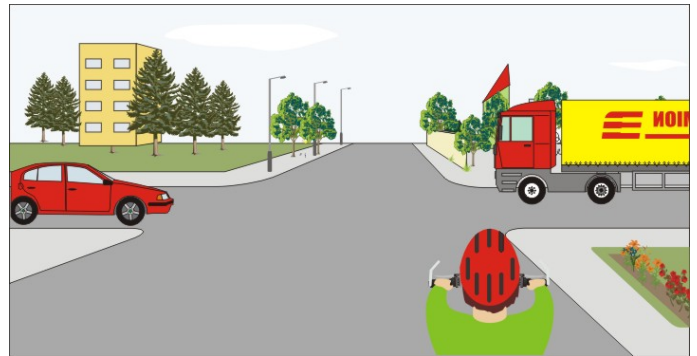
C

14. Žluté světlo svítí přerušovaně a to znamená

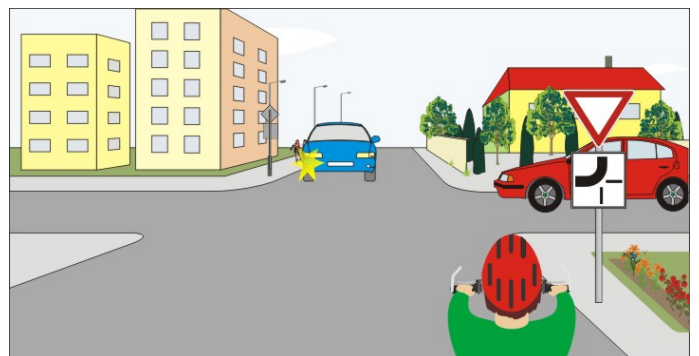
- A) že řidič musí zastavit vozidlo
- B) že křižovatka není řízená světelnými signály
- C) že má řidič přednost v jízdě

**15. Cyklista:**

- A) dává přednost nákladnímu vozidlu
- B) má přednost před červeným osobním vozidlem
- C) projede křižovatkou jako druhý

**16. Jako první projede křižovatkou:**

- A) cyklista
- B) červené osobní vozidlo
- C) modré osobní vozidlo

**17. Cyklista:**

- A) může vjet na kruhový objezd
- B) nedává přednost červenému vozidlu, které z kruhového objezdu vyjíždí
- C) nedává znamení o změně směru jízdy




18. Cyklista z výhledu:

- A) dává přednost v jízdě modrému vozidlu
- B) má přednost v jízdě před cyklistou přijíždějícím zleva
- C) projede křižovatkou jako druhý

**19. Vozidla projedou křižovatkou:**

- A) 1. modré, 2. tramvaje, 3. cyklista, 4. žluté
- B) 1. tramvaje a žluté současně, 2. modré, 3. cyklista
- C) 1. cyklista, 2. tramvaje a modré současně, 3. žluté

**20. Cyklista:**

- A) projede křižovatkou jako druhý
- B) projede křižovatkou jako první
- C) dá přednost chodcům, kteří přecházejí vozovku, na kterou odbočuje

