

TEST č. 13 Označ všechny správné odpovědi na zadané otázky

1. Vozovku smí cyklista přejíždět

- A) jen pokud nedonutí řidiče přijíždějících vozidel k náhlé změně směru jízdy
 - B) i když donutí řidiče přijíždějících vozidel k náhlé změně rychlosti jízdy
 - C) jen pokud nedonutí řidiče přijíždějících vozidel k náhlé změně rychlosti jízdy
-

2. Cyklista nesmí vjíždět na železniční přejezd

- A) je-li dávana výstraha dvěma červenými střídavě přerušovanými světly
 - B) je-li dávana výstraha přerušovaným zvukem houkačky nebo zvonku přejezdového zabezpečovacího zařízení
 - C) nejméně 5 minut před příjezdem vlaku
-

3. Před odbočením vlevo se řidič musí zařadit

- A) co nejdále vlevo v části vozovky určené pro jeho směr jízdy
 - B) co nejbliže k levému okraji vozovky
 - C) co nejbliže k pravému okraji vozovky
-

4. „Snížená viditelnost“

- A) nastává jenom v době, kdy se stmívá nebo je mlha
 - B) je pouze v noci
 - C) je například od soumraku do svítání, za mlhy, sněžení, hustého deště nebo v tunelu
-

5. Na pozemní komunikaci se na jízdním kole jezdí

- A) v celé šířce vozovky
 - B) při pravém okraji vozovky
 - C) po pravé krajnici, nejsou-li tím ohrožováni ani omezováni chodci
-

6. Na mokré vozovce

- A) cyklista přizpůsobí jízdu ztíženým podmínkám
 - B) cyklista nesmí snížit rychlost jízdy
 - C) cyklista musí intenzivně brzdit
-

7. Na paprscích předního nebo zadního kola nebo obou kol musí být

- A) nejméně jedna boční odrazka oranžové barvy (autožlut) na každé straně kola;
- B) jedna odrazka červené barvy
- C) jedna odrazka bílé barvy na vnější straně zadního kola

8. Tento pokyn policisty znamená

- A) „Volno“ pro řidiče přijíždějící k jeho pravému boku
- B) „Zrychlit jízdu!“
- C) „Stůj!“ pro všechny řidiče

**9. Vozovka bude zúžena z obou stran**

- A) ano
- B) ne
- C) nevím

**10. Tato dopravní značka**

- A) označuje hlavní pozemní komunikaci
- B) upozorňuje na jednosměrný provoz
- C) se užívá mimo obec

**11. Tato dopravní značka přikazuje**

- A) otáčení
- B) směr jízdy po kruhovém objezdu
- C) směr objíždění překážky

**12. Dopravní zařízení označuje**

- A) krátký příčný práh
- B) místo pro přecházení vozovky
- C) ochranný ostrůvek

**13. Která dopravní značka vyjadřuje zákaz vjezdu jízdních kol?**

A



B



C



14. Takto rozsvícený světelný signál znamená

- A) „Volno“
- B) povinnost zastavit vozidlo; pokud by řidič nemohl vozidlo bezpečně zastavit, smí pokračovat v jízdě
- C) připravit se k jízdě

15. Cyklista:

- A) projede křižovatkou jako druhý současně s modrým nákladním vozidlem
- B) jako první současně se žlutým osobním vozidlem
- C) a modré vozidlo se vyhnou vlevo



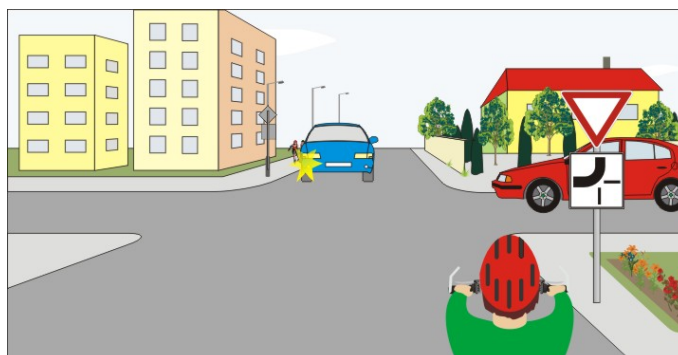
16. Cyklista:

- A) má přednost v jízdě
- B) dává přednost autobusu
- C) musí dát znamení o změně směru jízdy



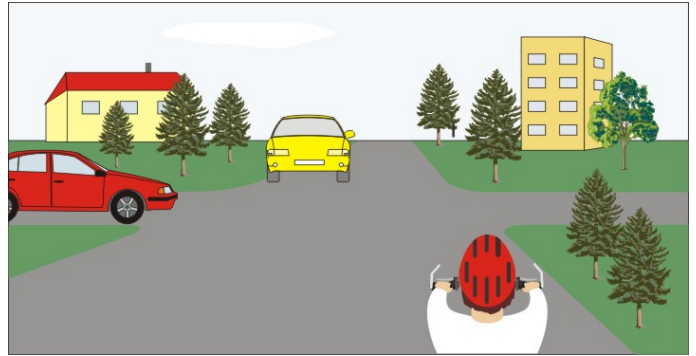
17. Cyklista:

- A) dává přednost v jízdě červenému vozidlu
- B) projede křižovatkou jako poslední
- C) přijíždí po hlavní pozemní komunikaci



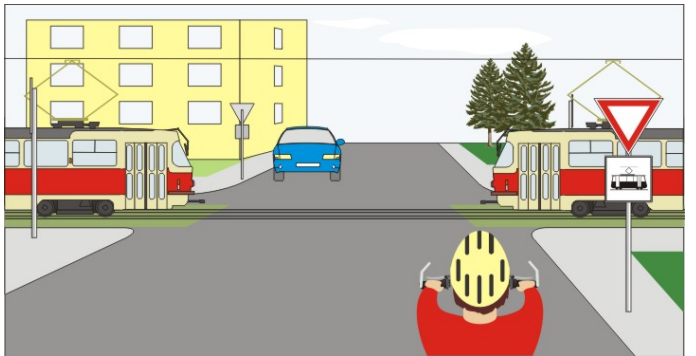
18. Vozidla projedou křižovatkou v pořadí:

- A) 1. cyklista, 2. červené, 3. žluté
- B) 1. cyklista a žluté současně, 2. červené
- C) 1. červené, 2. cyklista a žluté současně



19. Na této křižovatce:

- A) není přednost v jízdě upravena
- B) mají přednost v jízdě tramvaje
- C) mají přednost v jízdě vozidla přijíždějící zleva



20. Jako první projede křižovatkou:

- A) vozidlo hasičů
- B) žluté vozidlo
- C) cyklista

